


Op de tast...
tactiele discriminatie

Op de tast...



tactiele
discriminatie

Bij deze tekeningenband
hoort gelijknamige uitleg
in braille of Edu-tekst

Dedicon, 2021 versie 01

339469_1

Dit is een inzage-exemplaar. Kopiëren en vermenigvuldigen is niet toegestaan.
Deze tekening komt uit een Op de Tast boek, uitsluitend te bestellen door of
voor leerlingen met een visuele beperking op <https://educatief.dedicon.nl>


© dedicon



1. Welke vorm is anders? Hoe heet de vorm die anders is?



2. Welke vorm is anders? Hoe heet de vorm die anders is?



3. Welke vorm is anders? Hoe heet de vorm die anders is?



4. Welke vorm is anders? Hoe heet de vorm die anders is?






5. Welke vorm staat er aan het eind van de stippellijn?



6. Welke vorm staat er aan het eind van de stippellijn?



7. Welke vorm staat er aan het eind van de stippellijn?



8. Welke vorm staat er aan het eind van de stippellijn?





9. Je voelt twee lijnen. Welke van deze twee lijnen is dikker?




10. Je voelt twee stippellijnen. Welke stippels zijn dunner?



11. Je voelt steeds twee lijnen. Welke twee lijnen zijn niet hetzelfde?





12. Hoe heet deze vorm? Kun je de opening vinden?



13. Hoe heet deze vorm? Kun je de opening vinden?




14. Hoe heet deze vorm? Kun je de opening vinden?


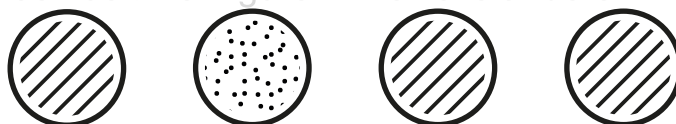


15. Hoe heet deze vorm? Kun je de opening vinden?






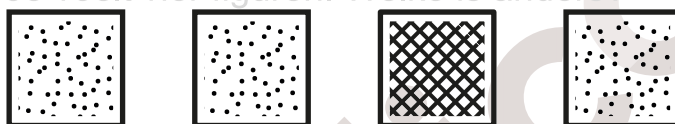
16. Je voelt vier figuren. Welke is anders?



17. Je voelt vier figuren. Welke is anders?



18. Je voelt vier figuren. Welke is anders?



19. Je voelt vier figuren. Welke is anders?


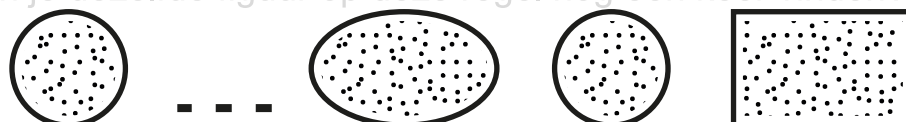




20. Vooraan de regel staat een figuur.
Kun je dezelfde figuur op deze regel nog een keer vinden?




21. Vooraan de regel staat een figuur.
Kun je dezelfde figuur op deze regel nog een keer vinden?




22. Vooraan de regel staat een figuur.
Kun je dezelfde figuur op deze regel nog een keer vinden?







23. Je voelt een regel met figuren. Welke is anders?



24. Je voelt een regel met figuren. Welke is anders?



25. Je voelt een regel met figuren. Welke is anders?



26. Je voelt een regel met figuren. Welke is anders?



27. Je voelt een regel met letters. Welke is anders?



28. Je voelt een regel met letters. Welke is anders?



29. Je voelt een regel met letters. Welke is anders?



30. Je voelt een regel met letters. Welke is anders?



31. Je voelt een regel met letters. Welke is anders?



32. Je voelt een regel met letters. Welke is anders?

